

Megyei Történelem Verseny

1. forduló

Az Anjouk és a Hunyadiak kora



Kedves Versenyző!

Néhány jó tanács! A feladatok megoldásához ismételjétek át a hatodikos történelemkönyvekben tanultakat és figyelmesen nézzétek meg a Zanza tv ide illő videó anyagát!

Eredményes munkát kívánok a szervezők nevében!

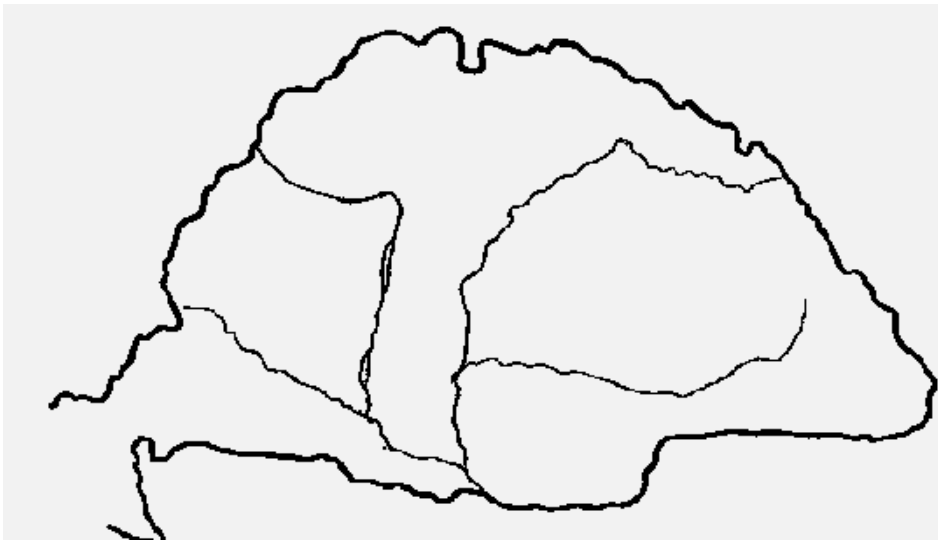
Név:.....

Cím:.....

Iskola, évfolyam:.....

E-mail cím:.....

1. Írd be a térképre a keretben olvasható kiskirályok /tartományurak/ nevét!



Kán László

Csák Máté

Aba Amadé

Kőszegi Henrik

Frangepán Duim

Subics Pál

6

2. Mely középkori magyar településről van szó? Jelöld őket a fenti térképre!

Koronázó és királyi temetkezőhely a Dunántúlon:

Királyi és érseki székváros a Duna jobb partján:

Az első magyar egyetem városa:

Aranylőhely mellé települt bányaváros a Felvidéken:

Gyorsan fejlődő város a Duna bal partján, szomszédos volt Rákos mezejével:

Vára a tatárjárás után, fontos kereskedelmi útvonal mellett, jól védhető hegyen épült:

12

3. A törökellenes fellépés módja sokat változott a vegyesházi királyok idején. Melyik magyar történelmi személyiségre ismersz a leírás alapján?

Támadó hadjáratokat vezetett, váltakozó sikerrel.
 Erős lovagsereg élén, büszkén ütközött meg az oszmánokkal, de nagy vereséget szenvedett.
 Uralkodása alatt nem voltak nagy hadjáratok, mindössze Szabácsot és Jajcát vette be.
 A magyar uralkodók közül először csatázott a törökkel, és nagy győzelmet aratott.

4	
---	--

4. Egészítsd ki a forrásokat! Válaszolj a kérdésekre!

„Tudjátok meg, hogy országunk főpapjai, bárói és nemesei egymás közt beható és egyértelmű megbeszélést folytatván, azt kérték, hogy értékű és országunkban mindenütt forgó új, jó pénzt veressünk.”

Melyik király rendelkezése?

„Ezen kívül bármely néven nevezett minden szabad faluban valamennyi jobbágyainktól is – kivéve a fallal övezett városokat – ezek minden terményének és borának a fogjuk beszedetni.”

Mely uralkodó, mikor adta ki?

„Hogy az örökösök nélkül elhaló nemeseknek jogukban és szabadságukban áll birtokaikat eladni vagy elidegeníteni, éppen ellenkezőleg: egyáltalában jog szerint és törvényesen, minden ellentmondás nélkül legközelebbi háramoljanak. Melyik törvényről van szó?

„Szokásuk a magyaroknak, hogy négyszögletű asztalok mellé ülnek le enni és minden ételt tálalnak. Az is szokás, hogy valamennyien egy tálból esznek és senki sem használ, amikor a falatot fölemeli.”

Melyik királyunk udvarában honos szokásokról szól a leírás?


10	
----	--

5. Írj rövid emléktábla-szöveget, amelyek elhelyezhetők lennének az alábbi építményeken!



.....

.....



.....
.....
.....
.....

.....
.....
.....
.....

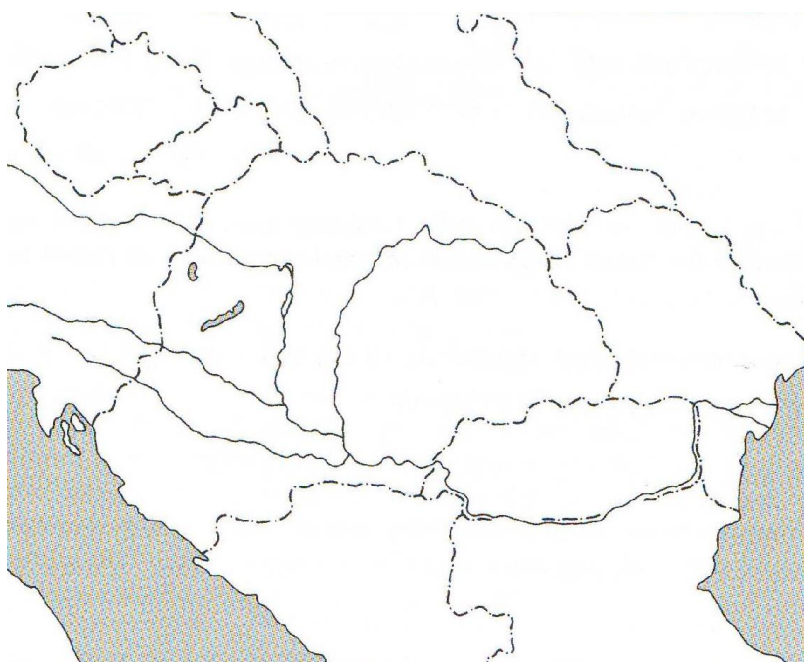
8	
---	--

6. Számozással állítsd sorrendbe az alábbi eseményeket! Kezd a legkorábbival!

-János úr visszatért Franciaországból
-Királyunk megkötötte a békét a fenséges szultánnal
-Ünnepeljük együtt Mezid bég legyőzőjét!
-Trónra lépett őfelsége, V.László
-A megfáradt magyar sereg hazatért a hosszú balkáni hadjáratból
-Szkander bég elkésett a megbeszélte találkozóról
-Gyászol az ország! A fiatal király elesett a várnai csataréren.
-Hunyadi Jánost bízták meg a kormányzói teendővel.


10	
----	--

7. Jelöld az alábbiakat! Hunyadi hosszú hadjáratát zöld színnel! A várnai csata helyét zöld, a Mezid elleni csatáét piros, a rigómezei ütközetét kék színnel!



5	
---	--

8. Fejtsd meg a keresztrejtvényt!



- Carobertot támogató erdélyi család
- mesterséget tanuló ifjú a középkorban
- az 1351. évi törvényben rögzített terményjáradék
- Mátyás anyjának vezetéknéve
- céhen kívül dolgozó kézműves
- Mátyás király kedvenc gyümölcse
- a kézműves műhelyét, a kereskedő boltját jelölő, jellemző címer
- könnyűlovas katona
- András herceg felesége, gyilkosa
- Mátyás király szülővárosa
- itáliai, olasz
- tengeri nagyhatalom a középkorban
- „barbár” stílus

Készíts rajzot a megfejtésről!

18	
----	--

9. Alakítsd ki az helyes időrendet! Oldd meg a feladatot!

a) fegyverhordozó lovag apród (3)

Írd ki Arany János: Toldi művének Előhangjából a lovag fegyvereit!

..... (4)

b) remek készítése vándorút inasévek mesterré avatás (4)

Mit nevezünk céheknek, milyen feladatai voltak a középkori városokban?

..... (4)

.....

15	
----	--

10. Elemezd Mátyás jövedelmeit, majd válaszolj a kérdésekre!

A jobbágyok adója	300.000 forint
A városok adója	20.000 forint
A zsidók adója	4.000 forint
Az erdélyi szászok adója	23.000 forint
Harmincadvámból származó adó	50.000 forint
Nemesfém és pénzverés	60.000 forint
Sóbányák haszna	80.000 forint
Rézeldás	26.000 forint
Királyi birtokok jövedelme	50.000 forint

Mennyi volt a király összes jövedelme az adott évben?

Kiknek az adója adta kincstár bevételének legnagyobb részét?

Hányad része ez az összjövedelemnek?

Melyik jövedelemfajta volt a második legjelentősebb?

A jövedelmek között egyik elnevezés hibás. Melyik?

Helyesen:

Milyen adónemből jött össze a jobbágyok adója?

És a királyi birtokok jövedelmének nagyobb része?

Európai viszonylatban milyen „helyezést” jelenthetett ez Mátyásnak?

Mennyit emésztett fel a zsoldoshadsereg fenntartása az éves jövedelemből?

(a 8 000 lovas havi 3, a 7000 gyalogos havi 1 forint zsoldot kapott)

.....